

**РЕШЕНИЕ ЗАДАЧ  
НА УМЕНЬШЕНИЕ  
ЧИСЛА НА  
НЕСКОЛЬКО  
ЕДИНИЦ**











- Шесть веселых медвежат
- За малиной в лес спешат.
- Но один малыш устал,
- От товарищей отстал.
- А теперь ответ найди,
- Сколько мишек впереди?









7

6 и 1

5 и 2

4 и 3







СРЕДА  
ЧЕТВЕРГ  
ПЯТНИЦА  
ВТОРНИК  
СУББОТА  
ВОСКРЕСЕНЬЕ  
ПОНЕДЕЛЬНИК









$10+2$

$4+2$

$17-7$

$12-3$

$16-10$

$11+1$

$14-5$

$5+5$

$8+0$

$5+3=8(\text{ягод})$





*На поляне играли 5 зайцев,  
а бельчат на 2 больше.*


*Сколько бельчат играли на  
поляне?*




*На поляне играли 5 зайцев,  
а бельчат на 2 меньше.*

*Сколько бельчат играли на  
поляне?*








Задания  
в  
тетрадах



Сколько точек в этом круге,  
столько раз поднимем руки.




Сколько здесь кружков,  
столько сделаем  
прыжков.

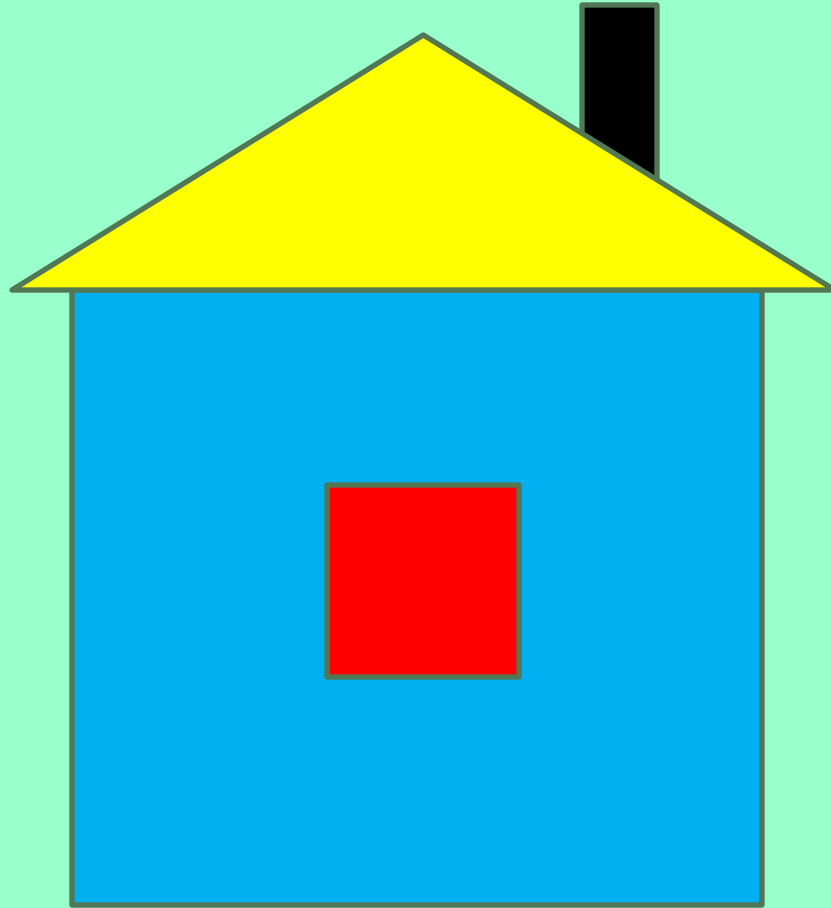


Сколько елочек  
зеленых,  
столько сделаем  
наклонов.

Дружно звездочки считаем,  
столько вместе приседаем.













на 2 больше, чем 6

**8**



на 1 меньше, чем 4

**3**



на 2 меньше, чем 12

**10**



на 1 больше, чем 9

**10**







